

الاسم :
النقطة : /30

الرائز التشخيصي مادة : الرياضيات
للسنة : الرابعة

الأنشطة العددية: /14

1- أتمم (ي) الجدول التالي : /3

العدد بالأرقام	العدد بالحروف
1520
.....	سنة آلاف وواحد وعشرون
374

2- رتب (ي) الأعداد التالية ترتيبا تزايديا : /2

6869 - 2458 - 6489 - 2504 - 698

4 - ضع (ي) وأنجز (ي) : /4

$$76 \times 4$$

$$38 \times 6$$

3- ضع (ي) وأنجز (ي) : /2

$$7843 - 338$$

$$1795 + 5694$$

5- مسائل: /3

تملك فاطمة 16 دجاجة، كل دجاجة تبيض لها بيضتين كل يوم.

كم من البيض سيتجمع عندها خلال 5 أيام؟

إطار خاص لإنجاز العمليات

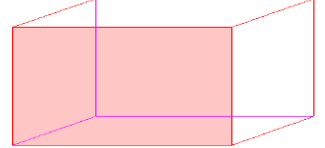
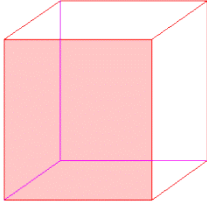
.....
.....

الهندسة : /12


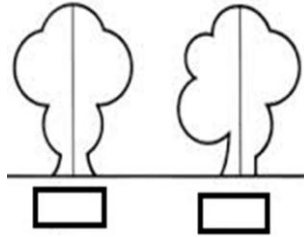
1- صل (ي) كل مجسم بإسمه :
متوازي المستطيلات

هرم

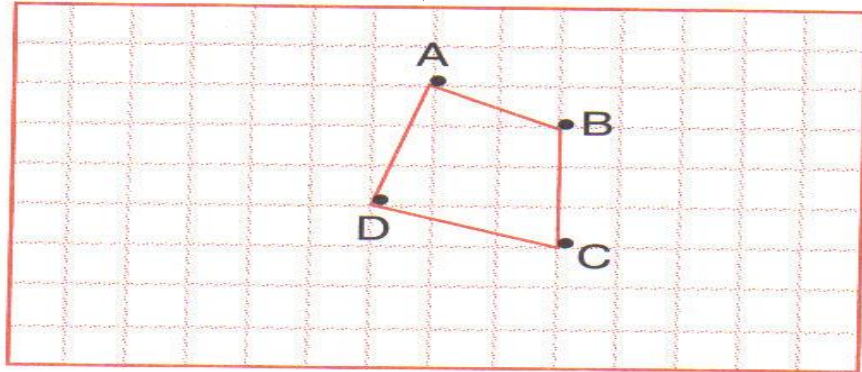
مكعب



2- ضع علامة على التماثل الصحيح . /1,5



3- أرسم (ي) منقول الشكل باستخدام الفن (3 . 6 ←) : /2



4- أرسم (ي) : /3


مستقيمين متعامدين

مستقيم (D)


قطعة [AB]

- أرسـم (ي) : /4

* مربعـا ضلعـه يسـاوي 3 cm



* مثلثـا قائـم الزاويـة



القياس : /14

1- أكمل : mg / g : /2

1g = 1000.....

1kg = 1000....

2 - أكمل : cm / m : /2

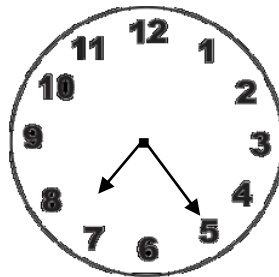
1km = 1000....

1m =1000....

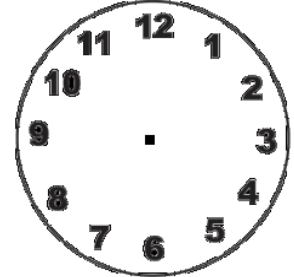
3- أكمل : g / l / m : /2

سعة قنينة ماء معدني هي 1...

4- أتمم (ي) برسم العقارب أو كتابة الساعة و الدقائق : /2



..... :.....



3 :50

5- أرتب الشهور الميلادية : /3

نونبر - أبريل - فبراير - غشت - مارس - دجنبر - يناير - ماي - يوليوز - شتنبر - يونيو - أكتوبر

6- لوفاء ورقة مالية من فئة 200 درهم و قطعة نقدية من فئة 10 دراهم، و قطعة أخرى من فئة 5 دراهم.
هل يمكنها شراء دراجة ثمنها 227 درهم ؟
/3



إطار خاص لإنجاز العمليات